

بسمه تعالی

دبستان:

کلاس:

آزمون ریاضی چهارم ابتدایی

تاریخ:

(فصل یک)

نام و نام خانوادگی:

مدت آزمون:

۱- اعداد زیر را به حروف بنویسید.

۴۰۰۲۹۸۴۰۰۱

۷۸۰۱۲۹۰۰۰


۲- عدد ششصد و بیست میلیون و هفده هزار و چهل را:

الف) به رقم بنویسید.


ب) بزرگ ترین رقم در چه مرتبه ای قرار دارد؟

ج) رقم دهگان میلیون این عدد چند است؟


۳- هر کدام از شکل های زیر از تعدادی دایره درست شده است. اگر شکل ها را به همین ترتیب ادامه دهیم، دایره های شکل هفتم را رسم کنید.



شکل ۱



شکل ۲



شکل ۳

شکل ۷

۴- بزرگ ترین و کوچک ترین عدد پنج رقمی که با رقم های (۳، ۱، ۰، ۴، ۶) می توان نوشت را در زیر بنویسید.

بزرگ ترین عدد کوچک ترین عدد

۵- ماشین ورودی و خروجی زیر را کامل کنید.



۶- عدد های زیر را با هم مقایسه کنید.

۴۲۱۸۹ ○ ۴۲۵۸۹

۹۰۰۱۲ ○ ۹۰۰۹

۱۴۲۵۱ ○ ۶۵۰۲

۱۲۴۰۰۱ ○ ۱۲۵۴۱

۶۰۲۰۲ ○ ۶۲۰۲۰

۱۴۷۸۹ ○ ۹۴۸۵۷

بسمه تعالی

دبستان:

کلاس:

نام و نام خانوادگی:

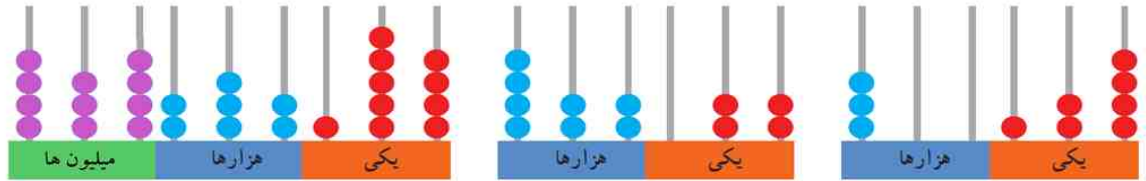
آزمون ریاضی چهارم ابتدایی

(فصل یک)

تاریخ:

مدت آزمون:

۷- عددی را که هر شکل نشان می دهد، به رقم و حروف بنویسید.



۸- در جاهای خالی جدول عدد مناسب بنویسید.

طول ضلع مربع	۴			۹		
محیط مربع		۴			۲۸	
مساحت مربع			۹			۱۰۰

