



۱ به رقم و حروف بنویسید.

نهمصد و ده میلیون و هفتصد و سی و چهار هزار و هشتصد و نود (.....)

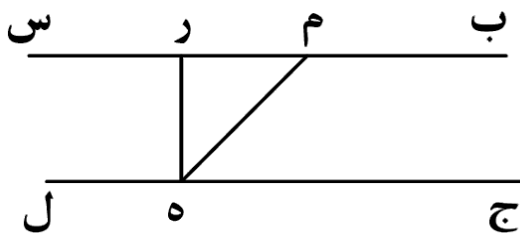
۶۰۵۰۴۰۵۷۱۰ (.....)

۲ جمع و تفریق های زیر را انجام دهید.

$$\begin{array}{r} 100000 \\ - 28543 \\ \hline \end{array}$$

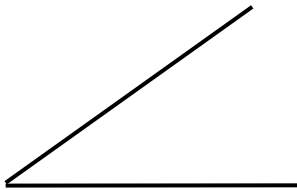
$$675 - (347 + 79) =$$

۳ با توجه به شکل مقابل به سوالات زیر پاسخ دهید.



- يك مثلث قائم الزاويه نام ببر :
- وتر اين مثلث را نام ببر :
- دو خط موازی نام ببر :
- يك زاويه ی باز نام ببر :
- يك زاويه ی قائمه نام ببر :

۴ با کمک پرگار و خط کش نیم ساز زاویه ی زیر را رسم کنید.



۵ علی ۱۴ سال دارد. سنّ خواهر علی از نصف سنّ علی ۴ سال کم تر است. خواهر علی چند ساله است؟

۶ بزرگ ترین و کوچک ترین عدد شش رقمی که با (۱، ۰، ۸، ۳، ۵، ۹) می توان نوشت کدام است؟

بزرگ ترین کوچک ترین


۷ علامت < = > بگذارید؟

هفتصد و بیست هزار و ششصد و چهل ۷۲۰۶۴۰۰

۱۰۰۰۲۰ ۹۹۸۰۰۴

از نقطه ی (م) خطی موازی پاره خط (ود) رسم کنید.

م •



قلب يك كودك در هر دقیقه ۱۱۵ بار می زند. قلب او در هر ساعت چند بار می زند؟

پاره خطی به طول ۴ سانتی متر بکشید سپس به کمک گونیا، عمود منصف آن را رسم کنید.

تقسیم های زیر را حل کنید و عبارت های درستی آن را بنویسید.

$$710 \overline{) 8}$$

$$378 \overline{) 4}$$

من عددی شش رقمی هستم . دهگانم ۶ ، صدگانم ۲ ، یکان هزارم ۵ است ، صدگان هزارم نصف دهگانم است و بقیه ی رقم های صفر است. حالا بگو من چه عددی هستم؟

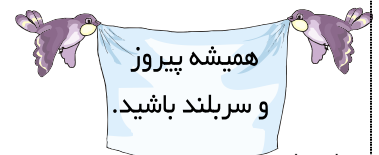
برای حمل آبلیمو از شیشه های ۵ لیتری استفاده می شود . با ۳۷ لیتر آبلیمو چند شیشه پرمی شود و چند لیتر باقی می ماند؟

ضرب های زیر را انجام دهید.

$$\begin{array}{r} 953 \\ \times 400 \\ \hline \end{array}$$

$$\begin{array}{r} 498 \\ \times 9 \\ \hline \end{array}$$

$$\begin{array}{r} 675 \\ \times 804 \\ \hline \end{array}$$



نظر معلم:

.....
.....
.....

